

VESTIBULAR MEIO DE ANO 2011

unesp



**PROVA DE
CONHECIMENTOS ESPECÍFICOS
E REDAÇÃO**

002. Ciências Humanas
(Questões 01 - 12)

- ✓ Confira seus dados impressos na capa deste caderno.
- ✓ Assine com caneta de tinta azul ou preta apenas no local indicado. Qualquer identificação no corpo deste caderno acarretará a anulação da prova.
- ✓ Esta prova contém 12 questões discursivas e terá duração total de 4h30.
- ✓ A prova deve ser feita com caneta de tinta azul ou preta.
- ✓ A resolução e a resposta de cada questão devem ser apresentadas no espaço correspondente. Não serão consideradas questões resolvidas fora do local indicado.
- ✓ Os rascunhos não serão considerados na correção.
- ✓ O candidato somente poderá entregar este caderno e sair do prédio depois de transcorridas 2h15, contadas a partir do início da prova.

**NÃO
ESCREVA
NESTE
ESPAÇO**



(*A Liberdade guiando o povo*. Museu do Louvre, Paris, 1831.)

A tela de Eugène Delacroix celebra a revolução de julho de 1830 na França, que derrubou o rei Carlos X e encerrou o período da Restauração.

Explique o significado do movimento de 1830 e identifique, através da análise da tela, dois elementos que atestem sua relação com a Revolução de 1789.

RASCUNHO

RESOLUÇÃO E RESPOSTA

CORREÇÃO

REVISÃO

Questão 02

Analise a tabela.

POPULAÇÃO LIVRE E POPULAÇÃO ESCRAVA NO BRASIL
(EM NÚMERO DE HABITANTES)

ANO	POPULAÇÃO LIVRE	POPULAÇÃO ESCRAVA
1822	2 000 000	1 000 000
1872	8 500 000	1 500 000
1887	14 000 000	700 000

(Emília Viotti da Costa. *A abolição*, 1986. Adaptado.)

Que informações a tabela oferece sobre as mudanças na população escrava, durante o período, comparada à população livre?
Que motivos justificaram tais mudanças?

RASCUNHO

RESOLUÇÃO E RESPOSTA

CORREÇÃO

REVISÃO

A presença do rio da Prata e seus afluentes é um elemento explicativo da “vocação” à integração existente entre o Brasil, a Argentina, o Uruguai e o Paraguai. Os rios desse estuário, ao mesmo tempo que dividem territórios nacionais, configuram um espaço privilegiado, facilitando contatos e intercâmbios.

(Heloisa Jochims Reichel e Ieda Gutfreind. *Fronteiras e guerras no Prata*, 1995.)

Cite um exemplo de práticas econômicas comuns entre os distintos habitantes da região do Prata no período colonial e um conflito lá ocorrido durante o século XIX. Avalie o estágio da integração hoje existente entre os países que têm territórios nessa área.

RASCUNHO

RESOLUÇÃO E RESPOSTA

CORREÇÃO

REVISÃO

Questão 04

Muitas áreas de domínio europeu na Ásia e na África obtiveram suas independências nas décadas de 1940 e 1950.

Cite dois casos de países que se tornaram independentes nesse período e indique uma possível explicação para a simultaneidade da descolonização em áreas tão distintas.

RASCUNHO

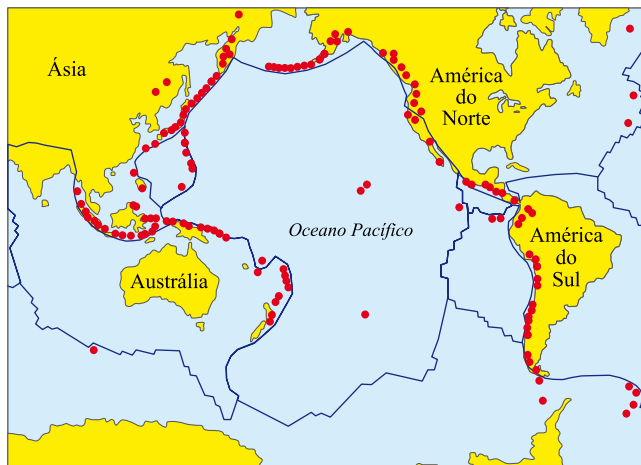
RESOLUÇÃO E RESPOSTA

CORREÇÃO

REVISÃO

Analise o mapa.

PLACAS TECTÔNICAS E VULCANISMO NO PACÍFICO



Faça uma associação entre as informações contidas no mapa e os desastres ocorridos no Japão, no mês de março de 2011.

RASCUNHO

RESOLUÇÃO E RESPOSTA

CORREÇÃO

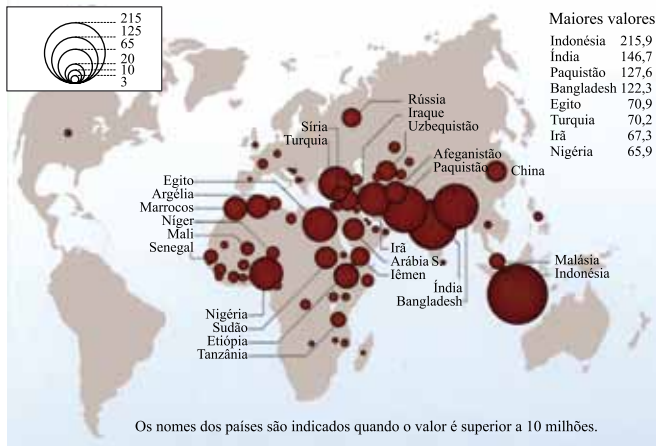
REVISÃO

Questão 06

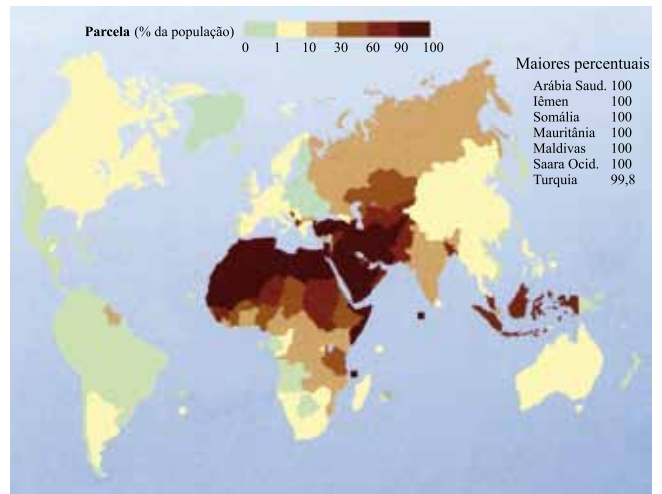
Observe os mapas, adaptados de Marie-Françoise Durand – 2009.

DISTRIBUIÇÃO DO NÚMERO DE MUÇULMANOS NO MUNDO

OS MUÇULMANOS, 2006
Números (em Milhões)



PORCENTAGEM DE MUÇULMANOS NA POPULAÇÃO MUNDIAL




A partir da análise e comparação dos mapas, descreva três características sobre a concentração e uniformidade da presença muçulmana no mundo. Correlacione a região de maior concentração muçulmana com fatos políticos ocorridos no primeiro semestre de 2011.

RESOLUÇÃO E RESPOSTA

CORREÇÃO

REVISÃO

Os gráficos indicam a distribuição do consumo mundial de água, por setores, nos grupos de países.



(Ricardo Hirata et al. *Decifrando a Terra*, 2010. Adaptado.)

Indique os setores econômicos de maior consumo de água e justifique as diferenças de uso entre os países de baixa e média renda e os países de alta renda.

RASCUNHO

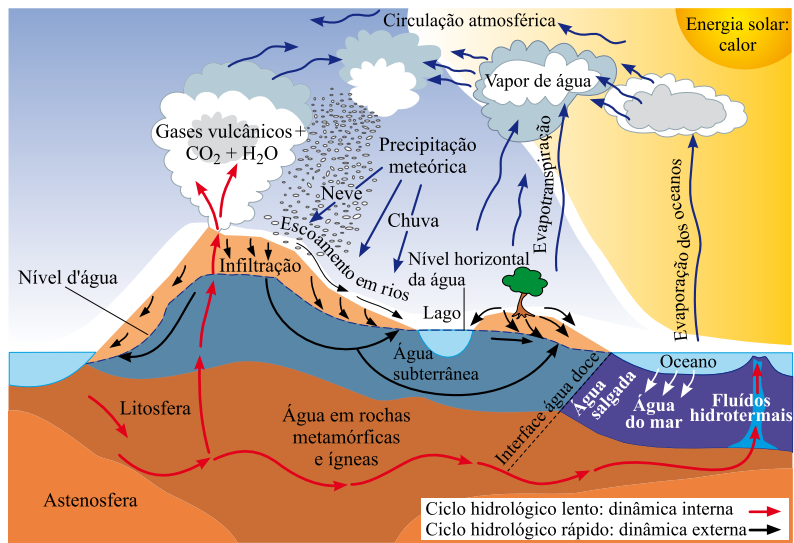
RESOLUÇÃO E RESPOSTA

CORREÇÃO

REVISÃO

Questão 08

A figura representa o ciclo hidrológico.



(Ivo Karmann. *Decifrando a Terra*, 2010. Adaptado.)

Descreva o ciclo hidrológico a partir da precipitação, indicando a energia que o move, e aponte as diferenças entre o ciclo hidrológico lento e o rápido.

RASCUNHO

RESOLUÇÃO E RESPOSTA

CORREÇÃO

REVISÃO

Enquanto os homens se contentaram com suas cabanas rústicas, enquanto se limitaram a costurar com espinhos ou com cerdas suas roupas de peles, a enfeitarem-se com plumas e conchas, a pintar o corpo com várias cores, a aperfeiçoar ou embelezar seus arcos e flechas, a cortar com pedras agudas algumas canoas de pescador ou alguns instrumentos grosseiros de música – em uma palavra: enquanto só se dedicavam a obras que um único homem podia criar e a artes que não solicitavam o concurso de várias mãos, viveram tão livres, sadios, bons e felizes quanto o poderiam ser por sua natureza.

O verdadeiro fundador da sociedade civil foi o primeiro que, tendo cercado um terreno, lembrou-se de dizer isto é meu e encontrou pessoas suficientemente simples para acreditá-lo. Quantos crimes, guerras, assassinios, misérias e horrores não teria poupado ao gênero humano aquele que, arrancando as estacas ou enchendo o fosso, tivesse gritado a seus semelhantes: “Defendei-vos de acreditar nesse impostor; estareis perdidos se esquecerdes que os frutos são de todos e que a terra não pertence a ninguém”.

(Jean-Jacques Rousseau. *Discurso sobre a origem da desigualdade entre os homens*. Adaptado.)

Cite a principal diferença estabelecida por Rousseau entre a vida em estado de natureza e a vida na sociedade civil, e explique o significado dessa diferença no âmbito da filosofia política.

RASCUNHO

RESOLUÇÃO E RESPOSTA

CORREÇÃO

REVISÃO

Questão 10

TEXTO I

Por isso também nós, desde o dia em que soubemos, não cessamos de rezar por vós e pedir a Deus que vos conceda pleno conhecimento de sua vontade, perfeita sabedoria e inteligência espiritual, a fim de vos comportardes de maneira digna do Senhor, procurando agradar-lhe em tudo, dando fruto de toda obra boa e crescendo no conhecimento de Deus, animados de grande energia pelo poder de sua glória para toda a paciência e longanimidade. Com alegria, agradecemos a Deus Pai, que vos tornou capazes de participar da herança dos santos no reino da Luz. Que nos livrou do poder das trevas e transportou ao reino do seu Filho amado, no qual temos a redenção: a remissão dos pecados.

(Bíblia Sagrada. *Epístola aos Colossenses* 1, 9-14, texto escrito no século I.)

TEXTO II

Olhe ao redor deste universo. Que imensa profusão de seres, animados e organizados, sensíveis e ativos! Examine, porém, um pouco mais de perto essas criaturas dotadas de vida, os únicos seres dignos de consideração. Que hostilidade e destrutividade entre eles! Quão incapazes, todos, de garantir a própria felicidade! Quão odiosos ou desprezíveis aos olhos de quem os contempla! O conjunto de tudo isso nada nos oferece a não ser a ideia de uma natureza cega, que despeja de seu colo, sem discernimento ou cuidado materno, sua prole desfigurada e abortiva.

(David Hume. *Diálogos sobre a religião natural*, texto escrito em 1779. Adaptado.)

Compare ambos os textos e comente uma diferença entre eles no que diz respeito à concepção de natureza humana e uma diferença referente à concepção de moralidade.

RASCUNHO

RESOLUÇÃO E RESPOSTA

CORREÇÃO

REVISÃO

Leia o texto, extraído do livro VII da obra magna de Platão (*A República*), que se refere ao célebre mito da caverna e seu significado no pensamento platônico.

Agora, meu caro Glauco – continuei – cumpre aplicar ponto por ponto esta imagem ao que dissemos, comparar o mundo que a visão nos revela à morada da prisão e a luz do fogo que a ilumina ao poder do sol. No que se refere à subida à região superior e à contemplação de seus objetos, se a considerares como a ascensão da alma ao lugar inteligível, não te enganarás sobre o meu pensamento, posto que também desejas conhecê-lo. Quanto a mim, tal é minha opinião: no mundo inteligível, a ideia do bem é percebida por último e a custo, mas não se pode percebê-la sem concluir que é a causa de tudo quanto há de direto e belo em todas as coisas; e que é preciso vê-la para conduzir-se com sabedoria na vida particular e na vida pública.

(Platão. *A República*, texto escrito em V a.C. Adaptado.)

Explique o significado filosófico da oposição entre as sombras no ambiente da caverna e a luz do sol.

RASCUNHO

RESOLUÇÃO E RESPOSTA

CORREÇÃO

REVISÃO

Questão 12

TEXTO I

A amígdala cerebral e o córtex pré-frontal são regiões do cérebro reguladoras de emoções como culpa, remorso e medo de punição. Duas pesquisadoras americanas estão revolucionando a comunidade científica ao afirmarem que, estudando essas duas importantes áreas, é possível identificar em crianças de 3 anos se elas apresentam riscos de se tornarem criminosas quando adultas. Segundo os cientistas Adrian Raine, da Universidade da Pensilvânia, e Nathalie Fontaine, da Universidade de Indiana, o cérebro de psicopatas exibe amígdalas 20% menores do que as do cérebro de um não criminoso.

(IstoÉ, 16.03.2011. Adaptado.)

TEXTO II

Criminalidade é efeito, é forma perversa de protesto, gerada por uma patologia social que a antecede e que é, também ela, perversa. Sem os filtros despoluidores da justiça social e da decência política, toda e qualquer medida contra o crime, por mais violenta e repressiva que seja, constituirá mero recurso paliativo. É claro que a criminalidade, enquanto sintoma, tem de ser adequadamente combatida por medidas policiais enérgicas. Mas que não se fique nisso, já que o puro e simples combate ao efeito não remove – nem resolve – a causa que o produz. Ao contrário: a luta isolada contra o efeito pode tornar-se danosa e perversa, uma vez que, destruindo sua função alertadora e denunciadora, provoca uma cegueira perigosa, que aprofunda a raiz do mal.

(Hélio Pelegriño. Texto publicado em 1986. Adaptado.)

Explique uma diferença de abordagem entre os dois textos sobre os fatores determinantes da violência, bem como uma diferença no que se refere à concepção de meios para evitá-la.

RASCUNHO

RESOLUÇÃO E RESPOSTA

CORREÇÃO

REVISÃO

Os rascunhos não serão considerados na correção.

RASCUNHO

NÃO ASSINE ESTA FOLHA

Os rascunhos não serão considerados na correção.

RASCUNHO

NÃO ASSINE ESTA FOLHA

Os rascunhos não serão considerados na correção.

RASCUNHO

NÃO ASSINE ESTA FOLHA

Os rascunhos não serão considerados na correção.

RASCUNHO

NÃO ASSINE ESTA FOLHA

Os rascunhos não serão considerados na correção.

RASCUNHO

NÃO ASSINE ESTA FOLHA

