

# **FUVEST 2003**

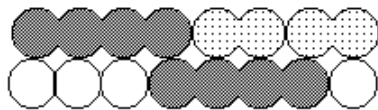
## **Segunda Fase**

**Química**

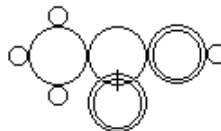
**06/01/2003**

**Q.01**

Em 1861, o pesquisador Kekulé e o professor secundário Loschmidt apresentaram, em seus escritos, as seguintes fórmulas estruturais para o ácido acético ( $C_2H_4O_2$ ):



fórmula de Kekulé



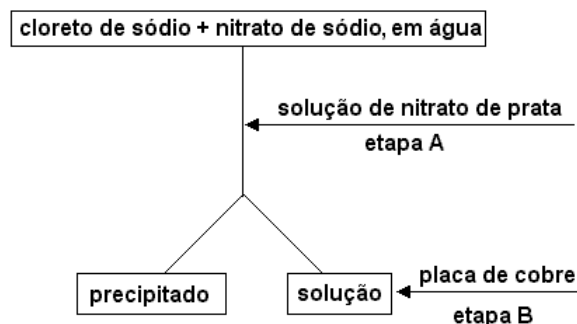
fórmula de Loschmidt

Mais tarde, Lewis introduziu uma maneira, ainda utilizada, de representar estruturas moleculares. Nas fórmulas de Lewis, o total de elétrons de valência dos átomos contribui para as ligações químicas, bem como para que cada átomo passe a ter configuração de gás nobre.

- Faça uma legenda para as fórmulas de Kekulé e Loschmidt, indicando as figuras utilizadas para representar os átomos de C, H e O.
- Escreva a fórmula de Lewis do ácido acético.
- Mostre, usando fórmulas estruturais, as interações que mantêm próximas duas moléculas de ácido acético.

**Q.02**

Uma mistura de cloreto de sódio e nitrato de sódio, de massa 20,20 g, foi dissolvida em água suficiente. A essa solução adicionaram-se 250 mL de solução aquosa de nitrato de prata de concentração 0,880 mol/L. Separou-se o sólido formado, por filtração, e no filtrado mergulhou-se uma placa de cobre metálico de massa igual a 20,00 g. Após certo tempo, observou-se depósito prateado sobre a placa e coloração azul na solução. A placa seca pesou 21,52 g. O esquema desse procedimento é:



- Escreva a equação balanceada que representa a reação química que ocorre na etapa B.
- Qual a quantidade, em mols, do depósito prateado formado sobre a placa de cobre? Mostre os cálculos.
- Qual a quantidade, em mols, de nitrato de prata em 250 mL da solução precipitante? Mostre os cálculos.
- Qual a massa de nitrato de sódio na mistura original? Mostre os cálculos.

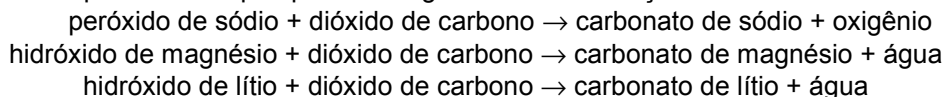
Dados:

massas molares (g/mol)

Ag.....108      Cu.....64      NaCl.....58

**Q.03**

As florestas, que cobrem partes de nosso planeta, participam da remoção do dióxido de carbono do ar atmosférico que respiramos. No entanto, em uma nave espacial, é preciso utilizar determinadas substâncias para retirar o dióxido de carbono do ar que os astronautas respiram. Isto pode ser feito por meio de qualquer das seguintes transformações:



- Utilizando fórmulas químicas, escreva as equações balanceadas que representam essas transformações.
- Uma nave espacial deve carregar o mínimo de carga. Assim, qual dos reagentes das três transformações acima seria o mais adequado para uma viagem interplanetária? Explique.
- Um astronauta produz cerca de 400 L de  $\text{CO}_2$ , medidos a 25 °C e 1 atm, a cada 24 horas. Calcule a massa do reagente, escolhido no item b, que será necessária para remover esse volume de  $\text{CO}_2$ .

Dados:

Volume molar de gás a 25 °C e 1 atm: 25 L/mol

Massas molares (g/mol)

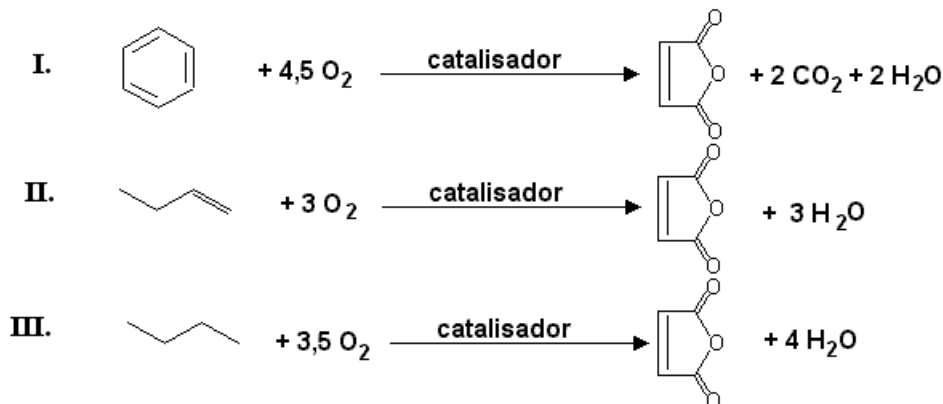
H...1,0 Li...7,0 C...12 O...16 Na...23 Mg...24

**Q.04**

A “química verde”, isto é, a química das transformações que ocorrem com o mínimo de impacto ambiental, está baseada em alguns princípios:

- utilização de matéria-prima renovável,
- não geração de poluentes,
- economia atômica, ou seja, processos realizados com a maior porcentagem de átomos dos reagentes incorporados ao produto desejado.

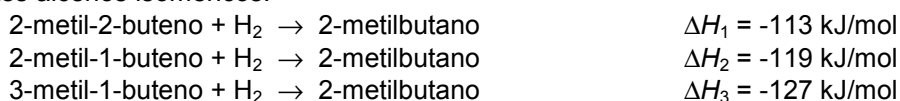
Analise os três processos industriais de produção de anidrido maléico, representados pelas seguintes equações químicas:



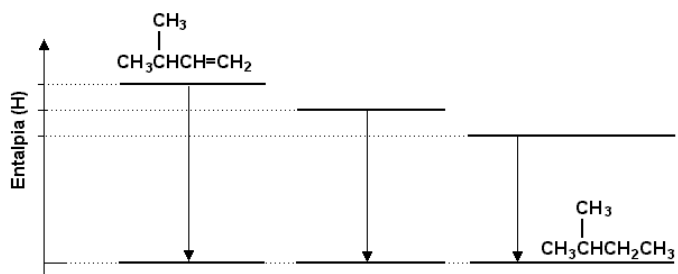
- Qual deles apresenta maior economia atômica? Justifique.
- Qual deles obedece pelo menos a dois princípios dentre os três citados? Justifique.
- Escreva a fórmula estrutural do ácido que, por desidratação, pode gerar o anidrido maléico.
- Escreva a fórmula estrutural do isômero geométrico do ácido do item c.

**Q.05**

O 2-metilbutano pode ser obtido pela hidrogenação catalítica, em fase gasosa, de qualquer dos seguintes alcenos isoméricos:



- Complete o esquema da página ao lado com a fórmula estrutural de cada um dos alcenos que faltam. Além disso, ao lado de cada seta, coloque o respectivo  $\Delta H$  de hidrogenação.
- Represente, em uma única equação e usando fórmulas moleculares, as reações de combustão completa dos três alcenos isoméricos.
- A combustão total de cada um desses alcenos também leva a uma variação negativa de entalpia. Essa variação é igual para esses três alcenos? Explique.

**Q.06**

A reação de acetato de fenila com água, na presença de catalisador, produz ácido acético e fenol. Os seguintes dados de concentração de acetato de fenila, [A], em função do tempo de reação,  $t$ , foram obtidos na temperatura de 5 °C:

$t/\text{min}$	0	0,25	0,50	0,75	1,00	1,25	1,50
$[A]/\text{mol L}^{-1}$	0,80	0,59	0,43	0,31	0,23	0,17	0,12

- Com esses dados, construa um gráfico da concentração de acetato de fenila (eixo y) em função do tempo de reação (eixo x), utilizando o quadriculado da página ao lado.
- Calcule a velocidade média de reação no intervalo de 0,25 a 0,50 min e no intervalo de 1,00 a 1,25 min.
- Utilizando dados do item b, verifique se a equação de velocidade dessa reação pode ser dada por:

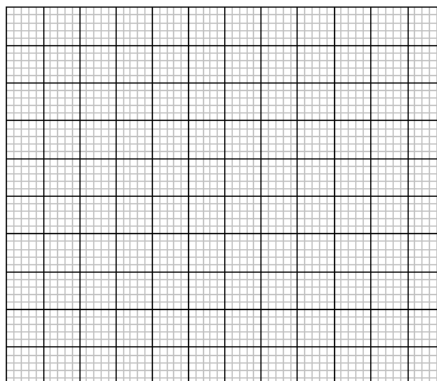
$$v = k [A]$$

onde  $v$  = velocidade da reação

$k$  = constante, grandeza que independe de  $v$  e de  $[A]$

$[A]$  = concentração de acetato de fenila

- Escreva a equação química que representa a hidrólise do acetato de fenila.



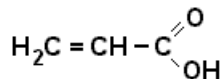
**Q.07**

Ao cozinhar alimentos que contêm proteínas, forma-se acrilamida (amida do ácido acrílico), substância suspeita de ser cancerígena.

Estudando vários aminoácidos, presentes nas proteínas, com o  $\alpha$ -aminogruppo marcado com nitrogênio-15, verificou-se que apenas um deles originava a acrilamida e que este último composto não possuía nitrogênio-15.

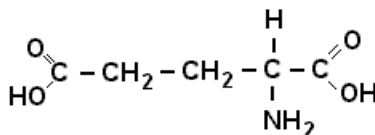
Dados:

a) Dê a fórmula estrutural da acrilamida.



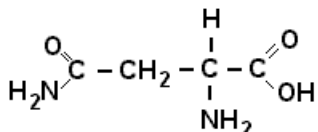
ácido acrílico

b) Em função dos experimentos com nitrogênio-15, qual destes aminoácidos, a asparagina ou o ácido glutâmico, seria responsável pela formação da acrilamida? Justifique.



ácido glutâmico

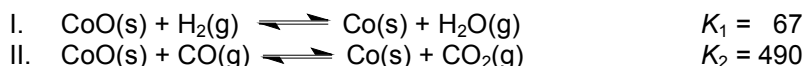
c) Acrilamida é usada industrialmente para produzir poliacrilamida. Represente um segmento da cadeia desse polímero.



asparagina

**Q.08**

Cobalto pode ser obtido a partir de seu óxido, por redução com hidrogênio ou com monóxido de carbono. São dadas as equações representativas dos equilíbrios e suas respectivas constantes a 550 °C.



a) Mostre como se pode obter a constante ( $K_3$ ) do equilíbrio representado por



a 550 °C, a partir das constantes dos equilíbrios I e II.

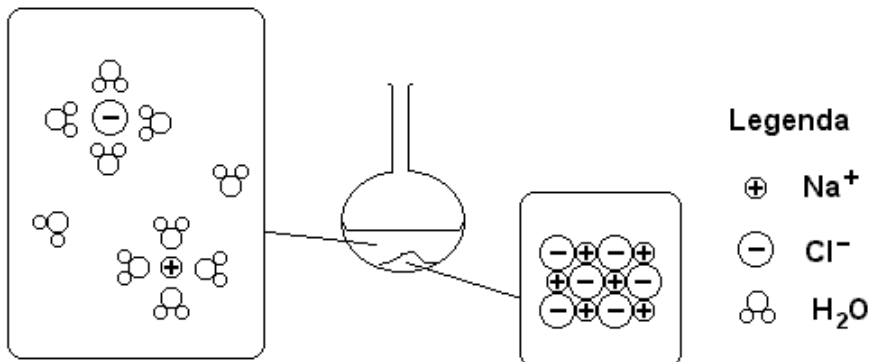
b) Um dos processos industriais de obtenção de hidrogênio está representado no item a. A 550 °C, a reação, no sentido da formação de hidrogênio, é exotérmica. Para este processo, discuta a influência de cada um dos seguintes fatores:

- aumento de temperatura.
- uso de catalisador.
- variação da pressão.

**Q.09**

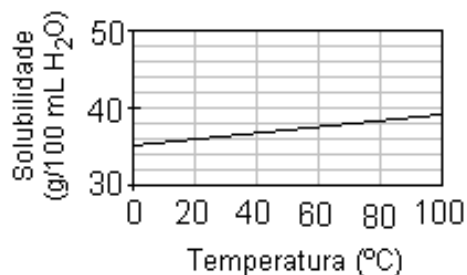
Uma mistura constituída de 45 g de cloreto de sódio e 100 mL de água, contida em um balão e inicialmente a 20 °C, foi submetida à destilação simples, sob pressão de 700 mm Hg, até que fossem recolhidos 50 mL de destilado.

O esquema abaixo representa o conteúdo do balão de destilação, antes do aquecimento:



- De forma análoga à mostrada acima, represente a fase de vapor, durante a ebulição.
- Qual a massa de cloreto de sódio que está dissolvida, a 20 °C, após terem sido recolhidos 50 mL de destilado? Justifique.
- A temperatura de ebulição durante a destilação era igual, maior ou menor que 97,4 °C? Justifique.

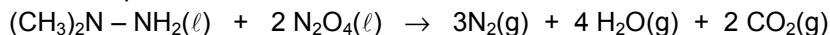
Dados: Curva de solubilidade do cloreto de sódio em água:



Ponto de ebulição da água pura a 700 mm Hg: 97,4 °C

**Q.10**

Dimetil-hidrazina e tetróxido de dinitrogênio foram usados nos foguetes do módulo que pousou na Lua nas missões Apollo. A reação, que ocorre pela simples mistura desses dois compostos, pode ser representada por



- Entre os reagentes, identifique o oxidante e o redutor. Justifique sua resposta, considerando os números de oxidação do carbono e do nitrogênio.
- Cite duas características da reação apresentada que tornam adequado o uso desses reagentes.
- Qual a pressão parcial do gás nitrogênio quando a pressão da mistura gasosa liberada se iguala à pressão na superfície da Lua? Mostre os cálculos.

Dados:

número de oxidação do carbono na dimetil-hidrazina: -2

pressão na superfície lunar:  $3 \times 10^{-10}$  Pa

## ATENÇÃO

---

ESTE CADERNO CONTÉM 10 (DEZ) QUESTÕES. VERIFIQUE SE ESTÁ COMPLETO.  
DURAÇÃO DA PROVA: 3 (TRÊS) HORAS.

---

VERIFIQUE SE NA PÁGINA CORRESPONDENTE À RESPOSTA DAS QUESTÕES 05 e 06 APARECE UM DESENHO PRÉ-IMPRESSO. SE FALTAR, PEÇA AO FISCAL A SUBSTITUIÇÃO DA PÁGINA.

- A correção de uma questão será restrita apenas ao que estiver apresentado no espaço correspondente, na folha de resposta, à direita da questão. É necessário indicar a resolução das questões que envolvem cálculos, não sendo suficiente apenas escrever as respostas.
  - Há espaço para rascunho, tanto no início quanto no final deste caderno.
- 

## RASCUNHO

---